

Ordena z.
Nº orden

HEZIKETA ZIKLOETARA SARTZEKO PROBA *PRUEBA DE ACCESO A CICLOS FORMATIVOS*

Goi Mailako Zikloak / *Ciclos de Grado Superior*

Atal espezifiko / *Parte específica*

A

Geografia/ *Geografía*

NAN / DNI		Izena / Nombre	
Abizenak / Apellidos			
Sinadura / Firma			

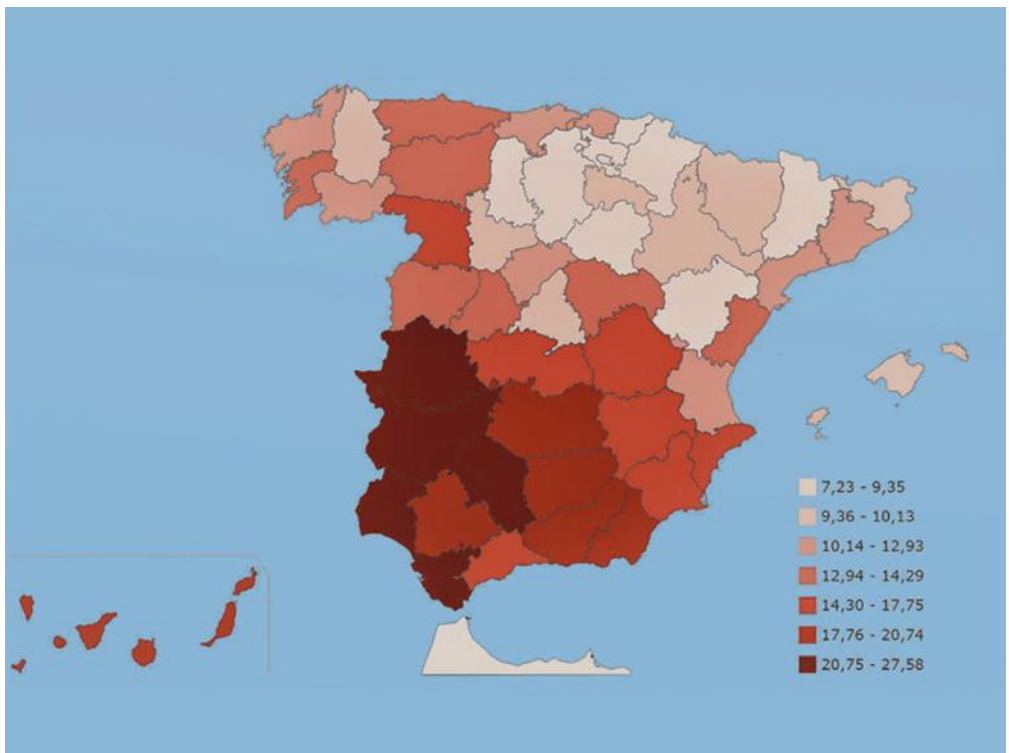
2021ko deialdia / *Convocatoria de 2021*



I. UNE CADA CONCEPTO CON SU DEFINICIÓN. PARA ELLO, COMPLETA LA TABLA QUE ESTÁ A LA DERECHA, RELACIONANDO CADA NÚMERO (CONCEPTO) CON SU LETRA CORRESPONDIENTE (DEFINICIÓN). (2 p.)

1 ESTADO DE BIENESTAR	A.- Productos brutos proporcionados por la naturaleza y utilizados por la industria para su transformación en productos elaborados.	1	
2 DESLOCALIZACIÓN	B.-Registro financiero de un país que recoge el resultado de los intercambios comerciales(importaciones y exportaciones)	2	
3 INFLACIÓN	C.-Moneda utilizada por un país.	3	
4 DIVISA	D.-Proceso a través del cual se han establecido relaciones de interdependencia a nivel mundial basadas en la expansión de las nuevas tecnologías y del sistema financiero.	4	
5 GLOBALIZACIÓN	E.-Subida constante de los precios.	5	
6 .-PIB (PRODUCTO INTERIOR BRUTO)	F.-Valor de la producción de bienes y servicios de un país durante un año.	6	
7 BALANZA COMERCIAL	G.- (Welfare State). Situación en la que el Estado proporciona a su población una serie de derechos considerados imprescindibles: empleo, protección social, sanidad, educación, vivienda, .etc.	7	
8 MATERIA PRIMA	H.- Proceso económicos por el cual las empresas desplazan las fábricas y centros de producción a países o regiones que ofrecen mano de obra más barata y, por tanto, mejores ventajas comparativas.	8	

II. MAPA DE LA TASA DE PARO EN ESPAÑA EN EL AÑO 2019. (2 p)



OBSERVA EL MAPA Y CONTESTA A LAS SIGUIENTES PREGUNTAS ELIGIENDO LA RESPUESTA CORRECTA DE ENTRE LAS OPCIONES QUE SE OFRECEN :

1.-¿En qué comunidad autónoma hay la mayor tasa de paro?

GALICIA	
EXTREMADURA	
CASTILLA LA MANCHA	

2.- ¿En qué provincia hay menor tasa de paro?

MADRID	
MÁLAGA	
SALAMANCA	

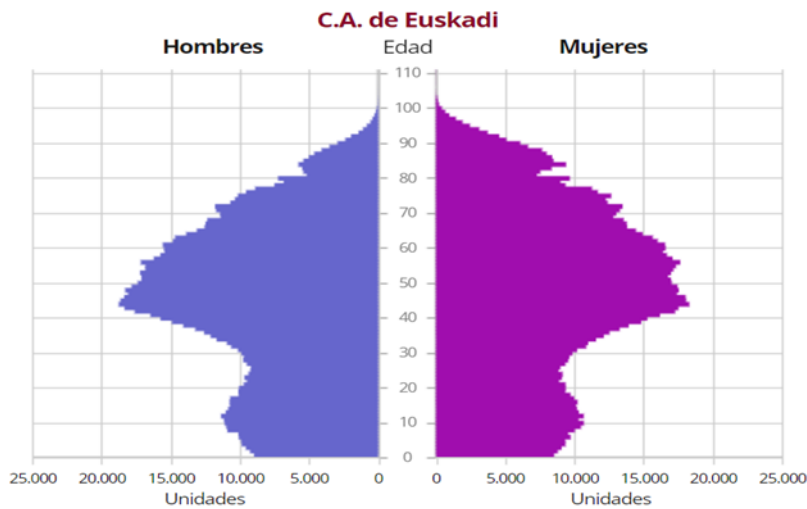
3.- ¿En qué comunidad autonoma hay menor tasa de paro?

CANTABRIA	
MURCIA	
CASTILLA-LEÓN	

4.-En Euskadi , ¿en qué provincia hay más paro?

.....

III.-PIRAMIDE DE POBLACION DE EUSKADI DEL AÑO 2020.(2P)



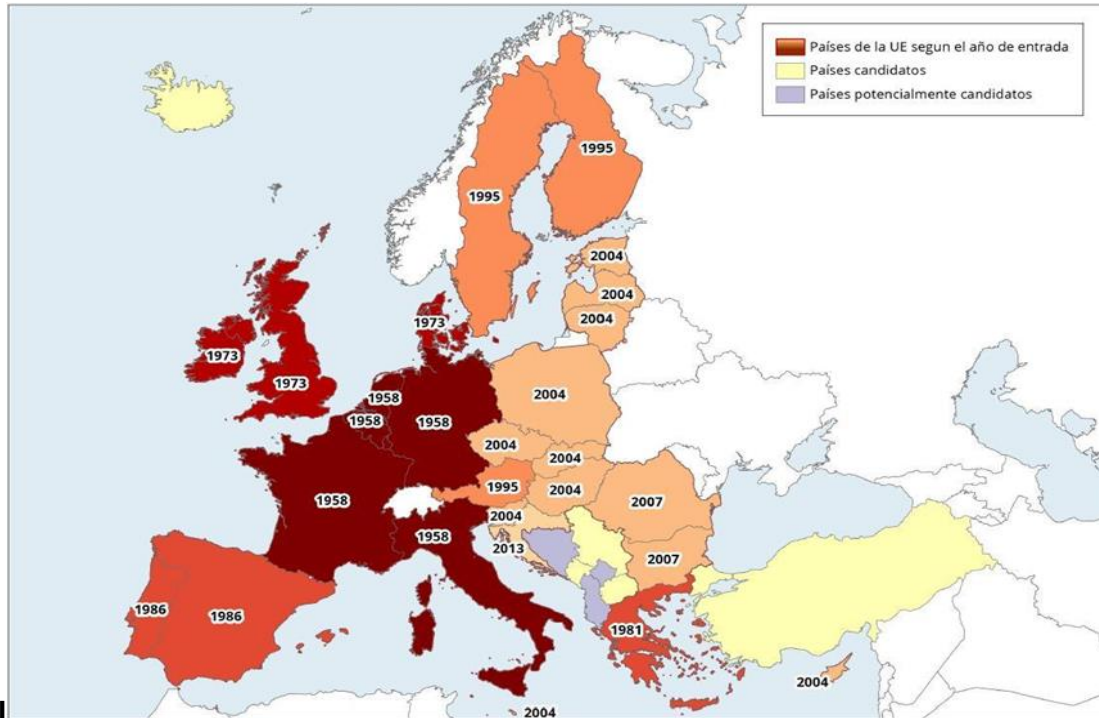
ESCRIBE LA PALABRA CORRECTA QUE LE CORRESPONDE A CADA NUMERO.

GERRA CIVIL/ /DESCENSO /POCOS /PROCESO DE ENVEJECIMIENTO /ESPERANZA DE VIDA

1	
2	
3	
4	
5	

Este gráfico que nos ocupa es la pirámide de la población de Euskadi y muestra la población de 2020, distribuyendo sexo y edades. Si nos fijamos en la forma de la pirámide los nacimientos son1.....Esta forma de pirámide nos muestra un2.....Este proceso se debe a que, a partir de 1975, los nacimientos se producen significativamente por un cambio de mentalidad (disminución de la influencia religiosa, aceptación de anticonceptivos, incorporación de la mujer al trabajo, legalización del aborto...). Por otro lado, el3.....se debe también a la situación económica, con una gran inestabilidad laboral, un encarecimiento de la vivienda y un aumento de los precios, por lo que tener un hijo supone muchos gastos. Además, la edad de matrimonio se ha retrasado y los hijos ya no son un seguro para envejecer. Las tasas de mortalidad también han disminuido principalmente por el aumento de la.....4....., debido a los avances médicos. Empezando por arriba, los nacidos en el año 1925 o antes, es decir, los que tienen más de 85 años, hay un punto de entrada: aquello de que fue pura generación era el relevo de la gripe española. A esto hay que añadir, las pérdidas que se han producido en la población debido a la vejez. Empezando por arriba, los nacidos en el año 1925 o antes, es decir, los que tienen más de 85 años, hay un punto de entrada: aquello de que fue pura generación era el relevo de la gripe española. A esto hay que añadir, las pérdidas que se han producido en la población debido a la vejez. Además, en la columna masculina hay que añadir a la de los hombres, que fueron los que participaron en la5.....

IV.- PROCESO DE CONSTRUCCIÓN DE LA UNIÓN EUROPEA (2 p)



OBSERVA EL MAPA Y CONTESTA A LAS SIGUIENTES PREGUNTAS ELIJIENDO LA RESPUESTA CORRECTA DE ENTRE LAS OPCIONES QUE SE OFRECEN :

1.- ¿Qué país ha entrado el último en la Unión Europea? Marca con una X la respuesta correcta.

AUSTRIA	
POLONIA	
CROACIA	

2.- ¿Qué país es candidato a entrar en la Unión Europea? Marca con una X la respuesta correcta.

LETONIA	
SERBIA	
RUMANIA	

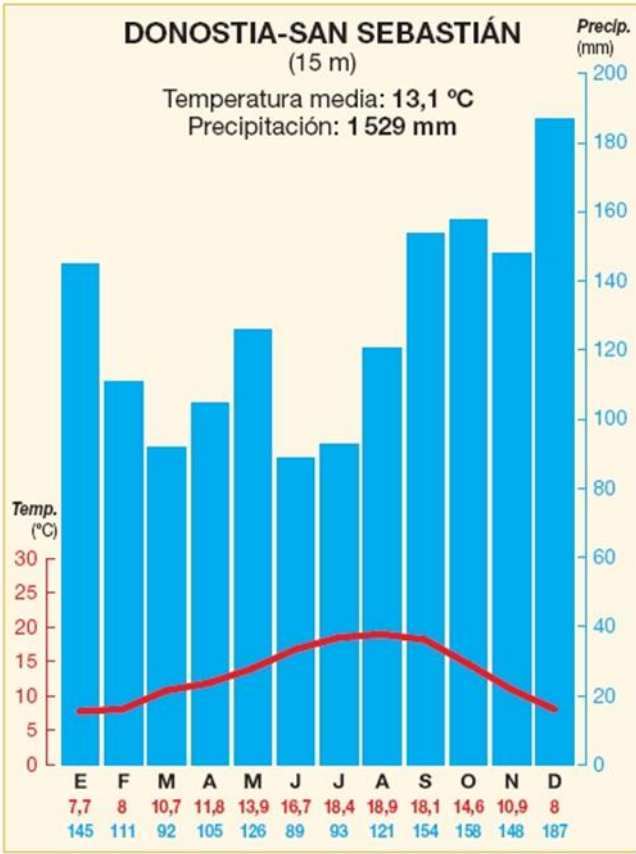
3.- ¿En qué año entro España en la Unión Europea?

.....

4.- ¿Qué país ha salido de la Unión Europea a finales de 2020?

.....

V. CLIMOGRAMA DE SAN SEBASTIAN –DONOSTIA. (2P)



OBSERVA EL CLIMOGRAMA Y CONTESTA A LAS SIGUIENTES PREGUNTAS:

1.- ¿En qué mes llueve más?

.....

2.- ¿En qué mes vemos la temperatura más elevada?

.....

3.- Teniendo en cuenta la temperatura, ¿Cuántos grados de oscilación térmica hay?

.....

4.-¿Qué clima aparece en el climograma?.Marca con una X la respuesta correcta.

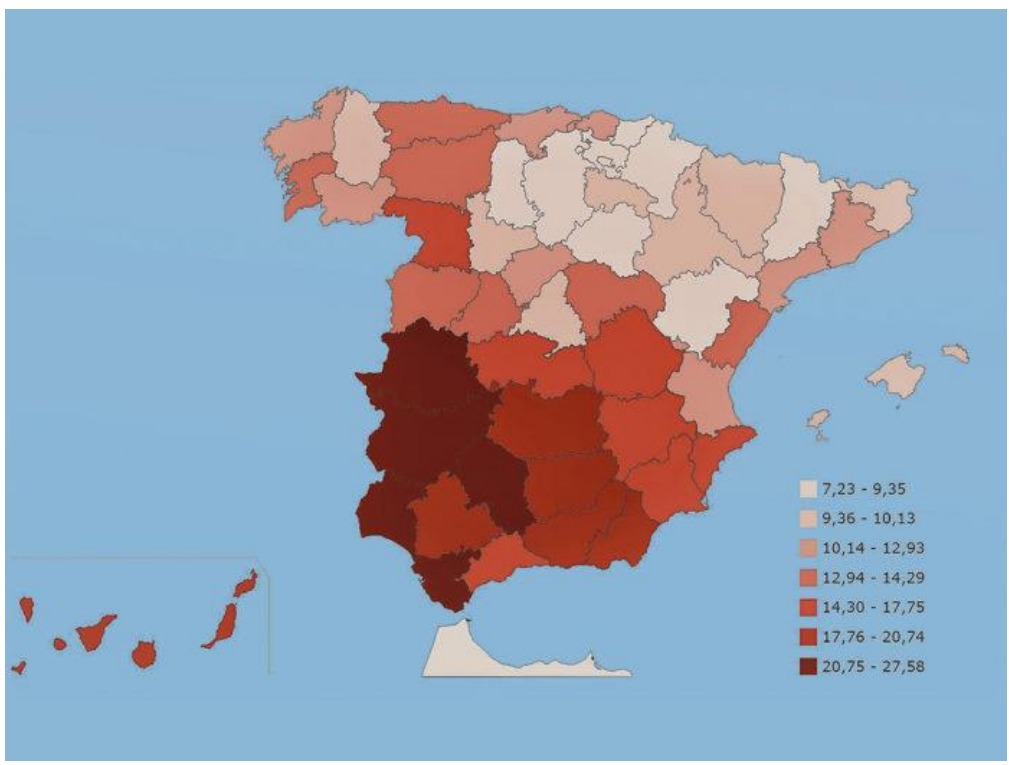
MEDITERRANEO	<input type="checkbox"/>
OCEANICO	<input type="checkbox"/>
TROPICAL	<input type="checkbox"/>



1. LOTU KONTZEPTU BAKOITZA BERE DEFINIZIOAREKIN. HORRETARAKO, ESKUMALDEKO ZUTABEA BETE BEHAR DUZU ZENBAKI BAKOITZARI (KONTZEPTUA) DAGOKION LETRAREKIN (DEFINIZIOA) ERLAZIONATUZ. (2 p.)

1.-ONGIZATE-ESTATUA	A. Gizakiak eraldatzen duen baliabidea, produktu landuak eta erdilanduak lortzeko bai artisau-jardueren ,bai industria-jardueren bidez.	1	
2.- DESLOKALIZAIOA	B. Esportazioen eta inportazioen arteko aldea erakusten du .	2	
3.-INFLAZIOA	C. Atzerriko moneta.	3	
4.- DIBISA	D. Munduko herrialdeen artean ondasun ,zerbitzu,teknologia,lan eta kapital-trukeak progresiboki liberalizatzeko prozesuari esaten zaio .	4	
5.-GLOBALIZAZIOA	E. Prezioen igoera orokorraeta konstantea.	5	
6.-BPGd (BARNE PRODUKTU GORDINA)	F. Urte baten buruan herrialde batean ekoizitako ondasun eta zerbitzuen balio osoa..	6	
7.-MERKATARITZA-BALANTZA	G. Estatuak sortutako gizarte-sistema,hiritarrei gutxieneko bizi – kalitatea bermatzeko ,biztanleari oinarrizko zerbitzuak (Osasuna, hezkuntza,...)doan emanez.	7	
8.-LEHENGAIA	H. Prozesu dela eta ,zenbait enpresek lan – kostu baxuagoak dituzten herrialdeetara eramaten dute haien ekoizpen – jarduereren zati bat.	8	

II. ESPAINIAKO LANGABEZIA TASA MAPA 2019.urtean (2 p)



BEGIRATU MAPARI ETA SEINALATU TAULAN ERANTZUN ZUZENA

1.-Zein autonomia erkidegotan dago langabezia gehiago ?.

GALIZIA	
EXTREMADURA	
GAZTELA-MANTXA	

2.- Zein probintzian dago langabezia gutxiago?.

MADRIL	
MALAGA	
SALAMANCA	

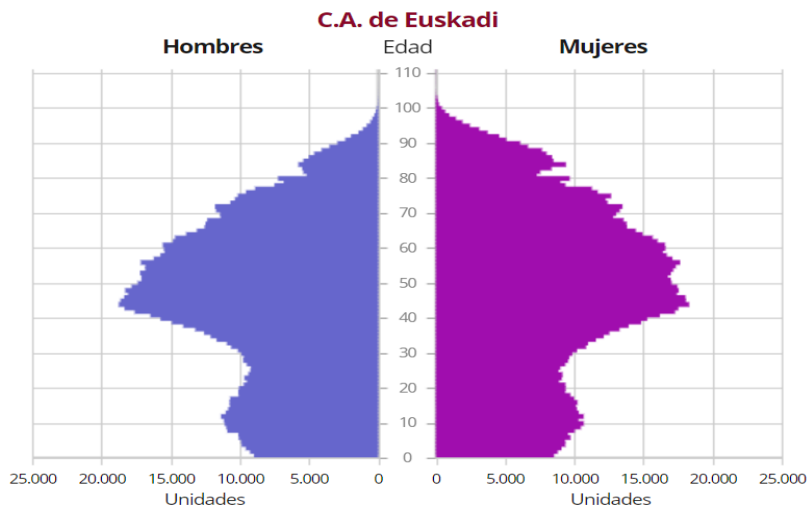
3.- Zein autonomia erkidegotan dago langabezi gutxiago?

KANTABRIA	
MURTZIA	
GAZTELA ETA LEON	

4.-Euskadin zein probintzian dago langabezi gehiago ?

.....

III.-EUSKADIKO 2020.URTEKO ADIN PIRAMIDEA.(2P)



HITZAK SARTZEKO HUTSUNETAN:

GERRA ZIBILEAN HILDAKOAK/BIZI -ITXAROPENA /BEHERA/GUTXI/ZAHARTZE-PROZESUAN

1	
2	
3	
4	
5	

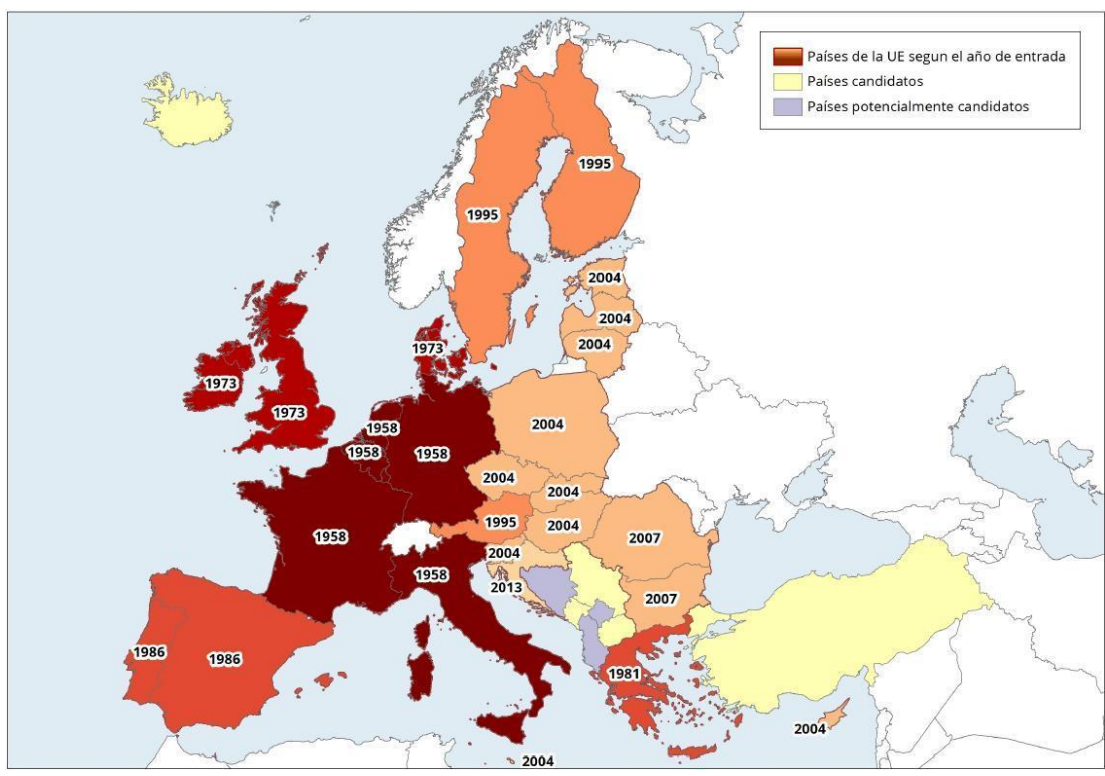
Esku artean dugun grafiko hori Euskadiko biztanleriaren piramidea da, eta 2020ko biztanleria erakusten du, sexua eta adinak banatuz.

Piramidearen formari erreparatuz gero, jaiotza1.....daude, baina, ondoren, helduen adin taldean izugarri handitzen da piramidea, eta, azkenik, txikituz doa zaharren adin-taldean. Forma hori kontuan hartuz, piramide honetako biztanleria2..... dagoela ikus dezakegu.

Prozesu hau arrazoi hauengatik gertatzen da : jaiotza-tasei dagokionez, 1975etik aurrera,3.....egiten dute jaiotzek, nabarmen, pentsamolde aldaketagatik (erlijioaren eragina gutxitzea, antisorgailuak onartzea, emakumea lanean hastea, abortua legeztatzea..). Beste alde batetik, egoera ekonomikoaren eraginez ere gertatu da beherakada, lanean ezegonkortasun handia baitago, etxebizitza garestitu da eta prezioak igo egin dira, eta, beraz, ume bat edukitzeak gastu asko ekartzen ditu. Gainera, ezkontzeko adina atzeratu egin da eta seme-alabak jada ez dira zahartzeko aseguruak. Heriotza-tasak ere txikitu dira, ...4.....-ren gorakadaren eraginez batik bat, medikuntza aurrerapenak direla-eta.

Goitik behera hasita, 1925. urtean edo lehenago jaiotakoak, hau da, 85 urte baino gehiago dituztenen artean, sargune bat dago: belaunaldi hutsa izan zelako hura espainiar gripearen erreleboa zen. Horri erantsi behar zaio, zahartzaroa dela eta biztanlerian izan diren galerak. Horretaz gain, gizonezkoen zutabea5.....erantsi behar dira, haiek izan baitziren gerran parte hartu zutenak.

IV. EUROPAR BATASUNAREN ZABALKUNTZA. (2 p)



OBSERVA EL MAPA Y SEÑALA LA RESPUESTA CORRECTA

1.-Zein herrialde sartu zen azken zabalkuntza ?

AUSTRIA	
POLONIA	
KROAZIA	

2.-Zer herrialde da EBn sartzeko hautagaia?

LETONIA	
SERBIA	
ERRUMANIA	

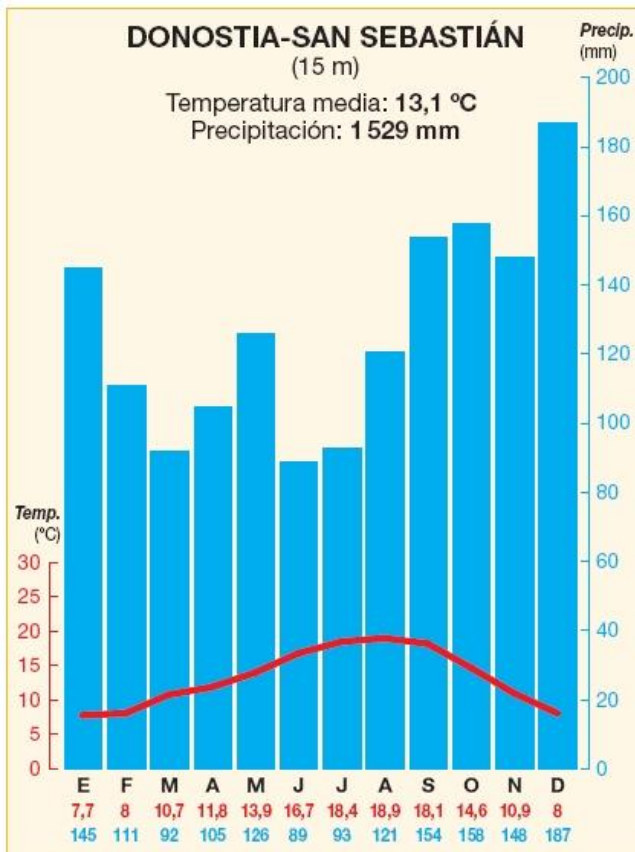
3.- Zein urtetan sartu zen Espainia Europar Batasunean?

.....

4.-Zein herrialde atera da Europar Batasunetik 2020.urtearen amaieran?

.....

V. DONOSTIAKO KLIMOGRAMA (2P)



BEGIRATU MAPARI ETA ERANTZUN HURRENGO GALDEREI:

- 1.-Zein hilabetetan euri gehiago dago?
- 2.- Zein hilabetetan tenperaturarik beroena dago?
- 3.- Tenperaturei begira ,oszilazioa .Zenbat gradu dauka?
- 4.- Zein klima da ?.Markatu x-arekin erantzun zuzena .

MEDITERRANEOA	
OZEANIKOA	
TROPIKALA	